

7.1 Skalární součin geometrických vektorů ve  $\mathbb{V}(\mathbb{E}_3)$ .

1. Určete skalární součin  $(2\vec{a} - 3\vec{b}) \cdot (2\vec{b} - \vec{a})$ , jestliže  $\|\vec{a}\| = 5$ ,  $\|\vec{b}\| = 4$  a úhel  $\angle(\vec{a}, \vec{b})$  je  $\pi/3$ .

$$\begin{aligned}
 (2\vec{a} - 3\vec{b}) \cdot (2\vec{b} - \vec{a}) &= 4\vec{a} \cdot \vec{b} - 2\vec{a} \cdot \vec{a} - 6\vec{b} \cdot \vec{b} + 3\vec{b} \cdot \vec{a} = 7\vec{a} \cdot \vec{b} - 2\vec{a} \cdot \vec{a} - 6\vec{b} \cdot \vec{b} = \\
 &= 7 \cdot \|\vec{a}\| \cdot \|\vec{b}\| \cdot \cos \angle(\vec{a}, \vec{b}) - 2\|\vec{a}\| \cdot \|\vec{a}\| \cdot \cos \angle(\vec{a}, \vec{a}) - 6\|\vec{b}\| \cdot \|\vec{b}\| \cdot \cos \angle(\vec{b}, \vec{b}) = \\
 &= 7 \cdot 5 \cdot 4 \cdot \underbrace{\cos \frac{\pi}{3}}_{\frac{1}{2}} - 2 \cdot 5 \cdot 5 \cdot \underbrace{\cos 0}_1 - 6 \cdot 4 \cdot 4 \cdot \underbrace{\cos 0}_1 = 70 - 50 - 96 = \underline{\underline{-76}}
 \end{aligned}$$

7.1.3. Určete  $\|\vec{a} - \vec{b}\|$ , jestliže  $\|\vec{a}\| = 13$ ,  $\|\vec{b}\| = 19$ ,  $\|\vec{a} + \vec{b}\| = 24$ .

$$\|\vec{a}\| = \sqrt{\vec{a} \cdot \vec{a}}$$

$$\|\vec{a} + \vec{b}\| = \sqrt{(\vec{a} + \vec{b})^2} = \sqrt{\vec{a}^2 + 2\vec{a} \cdot \vec{b} + \vec{b}^2} = \sqrt{\|\vec{a}\|^2 + 2\|\vec{a}\| \cdot \|\vec{b}\| \cdot \cos \varphi(\vec{a}, \vec{b}) + \|\vec{b}\|^2}$$

$$\|\vec{a} + \vec{b}\|^2 = \|\vec{a}\|^2 + 2\vec{a} \cdot \vec{b} + \|\vec{b}\|^2 \Rightarrow 2\vec{a} \cdot \vec{b} = \|\vec{a} + \vec{b}\|^2 - \|\vec{a}\|^2 - \|\vec{b}\|^2$$

$$(\vec{a} - \vec{b})^2 = \|\vec{a}\|^2 - 2\vec{a} \cdot \vec{b} + \|\vec{b}\|^2$$

$$\|\vec{a} - \vec{b}\|^2 = (\vec{a} - \vec{b})^2 = \|\vec{a}\|^2 - 2\vec{a} \cdot \vec{b} + \|\vec{b}\|^2 = \|\vec{a}\|^2 - (\|\vec{a} + \vec{b}\|^2 - \|\vec{a}\|^2 - \|\vec{b}\|^2) + \|\vec{b}\|^2 =$$

$$= 2\|\vec{a}\|^2 - \|\vec{a} + \vec{b}\|^2 + 2\|\vec{b}\|^2 = 2 \cdot 13^2 - 24^2 + 2 \cdot 19^2 = 22^2$$

$$\underline{\underline{\|\vec{a} - \vec{b}\| = 22}}$$

7.1.5. Pro jaké číslo  $n \in \mathbb{R}$  jsou vektory  $\vec{x} = (n-4)\vec{a} + \frac{3}{2}\vec{b} + (n+2)\vec{c}$ ,  $\vec{y} = -4\vec{a} - 2n\vec{b} + \vec{c}$  kolmé, jestliže  $\|\vec{a}\| = 1$ ,  $\|\vec{b}\| = 2$ ,  $\|\vec{c}\| = 2$ ,  $\angle(\vec{a}, \vec{b}) = \angle(\vec{b}, \vec{c}) = \angle(\vec{a}, \vec{c}) = 60^\circ$ ?

$$\vec{a} \cdot \vec{b} = \|\vec{a}\| \cdot \|\vec{b}\| \cos \angle(\vec{a}, \vec{b})$$

$$\begin{aligned} \vec{x} \cdot \vec{y} &= ((n-4)\vec{a} + \frac{3}{2}\vec{b} + (n+2)\vec{c}) \cdot (-4\vec{a} - 2n\vec{b} + \vec{c}) = \underbrace{(n-4)(-4)\vec{a} \cdot \vec{a}} + \underbrace{(n-4)(-2n)\vec{a} \cdot \vec{b}} + \underbrace{(n-4)\vec{a} \cdot \vec{c}} + \\ &+ \underbrace{\frac{3}{2}(-4)\vec{b} \cdot \vec{a}} + \underbrace{\frac{3}{2}(-2n)\vec{b} \cdot \vec{b}} + \underbrace{\frac{3}{2}\vec{b} \cdot \vec{c}} + \underbrace{(n+2)(-4)\vec{c} \cdot \vec{a}} + \underbrace{(n+2)(-2n)\vec{c} \cdot \vec{b}} + \underbrace{(n+2)\vec{c} \cdot \vec{c}} = \\ &= (-4n+16)\underbrace{\vec{a} \cdot \vec{a}}_{1 \cdot 1 = 1} + (-2n^2 + 8n - 6)\underbrace{\vec{a} \cdot \vec{b}}_{1 \cdot 2 \cdot \frac{1}{2} = 1} + (-3n - 12)\underbrace{\vec{a} \cdot \vec{c}}_{1 \cdot 2 \cdot \frac{1}{2} = 1} + (-2n^2 - 4n + \frac{3}{2})\underbrace{\vec{b} \cdot \vec{c}}_{2 \cdot 2 \cdot \frac{1}{2} = 2} + (-3n)\underbrace{\vec{b} \cdot \vec{b}}_{2 \cdot 2 = 4} + \\ &+ (n+2)\underbrace{\vec{c} \cdot \vec{c}}_{2 \cdot 2 = 4} = \underline{-6n^2 - 15n + 9 = 0} \Rightarrow 2n^2 + 5n - 3 = 0 \end{aligned}$$

$$n_{1,2} = \frac{-5 \pm \sqrt{5^2 - 4 \cdot 2 \cdot (-3)}}{2 \cdot 2} = \frac{-5 \pm \sqrt{49}}{4} \begin{cases} -3 \\ \frac{1}{2} \end{cases}$$

7.1. 6. Vypočítejte úhel vektorů  $\vec{a} = 2\vec{m} + \vec{n}$ ,  $\vec{b} = -3\vec{m} + 2\vec{n}$ , kde  $\vec{m}, \vec{n}$  jsou jednotkové vektory, svírající úhel  $\alpha = 60^\circ$ . Načrtněte obrázek.

$$\|\vec{m}\| = \|\vec{n}\| = 1, \angle(\vec{m}, \vec{n}) = 60^\circ$$

$$\vec{a} \cdot \vec{b} = \|\vec{a}\| \cdot \|\vec{b}\| \cdot \cos \varphi$$

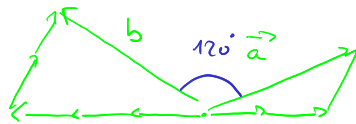
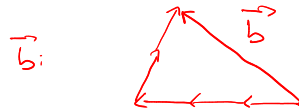
$$\cos \varphi = \frac{\vec{a} \cdot \vec{b}}{\|\vec{a}\| \cdot \|\vec{b}\|}$$

$$\|\vec{a}\|^2 = \vec{a} \cdot \vec{a} = (2\vec{m} + \vec{n})^2 = 4\vec{m}^2 + 4\vec{m} \cdot \vec{n} + \vec{n}^2 = 4 \cdot 1 + 4 \cdot 1 \cdot 1 \cdot \frac{1}{2} + 1 = 7 \Rightarrow \|\vec{a}\| = \sqrt{7}$$

$$\|\vec{b}\|^2 = \vec{b} \cdot \vec{b} = (-3\vec{m} + 2\vec{n})^2 = 9\vec{m}^2 - 12\vec{m} \cdot \vec{n} + 4\vec{n}^2 = 9 \cdot 1 - 12 \cdot 1 \cdot 1 \cdot \frac{1}{2} + 4 \cdot 1 = 7 \Rightarrow \|\vec{b}\| = \sqrt{7}$$

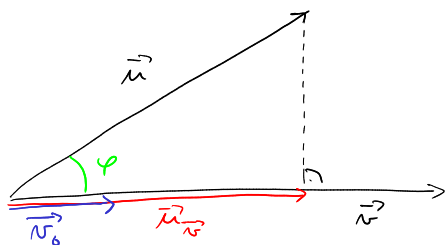
$$\vec{a} \cdot \vec{b} = (2\vec{m} + \vec{n}) \cdot (-3\vec{m} + 2\vec{n}) = -6\vec{m}^2 + 4\vec{m} \cdot \vec{n} - 3\vec{n} \cdot \vec{m} + 2\vec{n}^2 = -6 \cdot 1 + 1 \cdot 1 \cdot 1 \cdot \frac{1}{2} + 2 \cdot 1 = -\frac{7}{2}$$

$$\cos \varphi = \frac{-\frac{7}{2}}{\sqrt{7} \cdot \sqrt{7}} = -\frac{1}{2} \Rightarrow \underline{\underline{\varphi = 120^\circ}}$$



7.1.7. Určete projekci vektoru  $\vec{u} = 10\vec{a} + 2\vec{b}$  do vektoru  $\vec{v} = 5\vec{a} - 12\vec{b}$ , kde  $\vec{a}, \vec{b}$  jsou jednotkové, k sobě kolmé vektory.

osobij  $\varphi$ :



$\vec{u}_{\vec{v}}$  ... ortogonální projekce vektoru  $\vec{u}$  do  $\vec{v}$

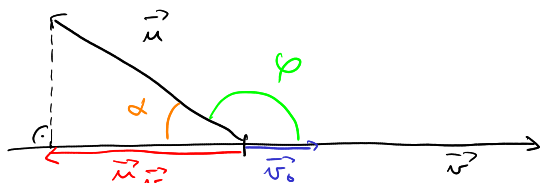
$$\vec{u}_{\vec{v}} = \|\vec{u}_{\vec{v}}\| \cdot \vec{v}_0$$

$$\cos \varphi = \frac{\|\vec{u}_{\vec{v}}\|}{\|\vec{u}\|} \Rightarrow \|\vec{u}_{\vec{v}}\| = \|\vec{u}\| \cos \varphi$$

$$\vec{v}_0 = \frac{\vec{v}}{\|\vec{v}\|}$$

$$\vec{u}_{\vec{v}} = \|\vec{u}_{\vec{v}}\| \cdot \vec{v}_0 = \|\vec{u}\| \cos \varphi \cdot \frac{\vec{v}}{\|\vec{v}\|} = \|\vec{u}\| \cdot \frac{(\vec{u} \cdot \vec{v})}{\|\vec{u}\| \|\vec{v}\|} \cdot \frac{\vec{v}}{\|\vec{v}\|} = \frac{(\vec{u} \cdot \vec{v})}{\|\vec{v}\|^2} \cdot \vec{v}$$

Supj  $\varphi$ :



$$\varphi = \pi - \alpha$$

$$\cos \varphi = \cos(\pi - \alpha) = \cos \pi \cos \alpha - \sin \pi \sin \alpha = -1 \cdot \cos \alpha - 0 = -\cos \alpha$$

$$[\cos(a-b) = \cos a \cos b + \sin a \sin b]$$

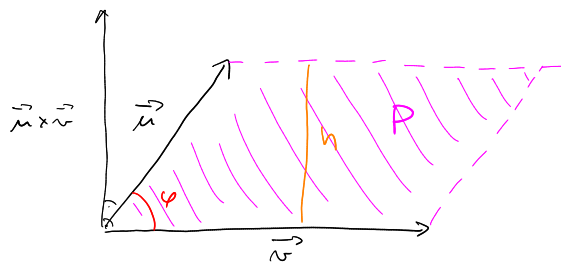
$$\cos \alpha = \frac{\|\vec{u}_{\vec{v}}\|}{\|\vec{u}\|}; \vec{u}_{\vec{v}} = \|\vec{u}_{\vec{v}}\| \cdot (-\vec{v}_0)$$

$$\vec{u}_{\vec{v}} = \|\vec{u}_{\vec{v}}\| \cdot (-\vec{v}_0) = -\|\vec{u}\| \cdot \cos \alpha \cdot \frac{\vec{v}}{\|\vec{v}\|} = \|\vec{u}\| \cdot \cos \varphi \cdot \frac{\vec{v}}{\|\vec{v}\|} \dots \text{stejně jako pro osobij úhel!}$$

$$\vec{u}_{\vec{v}} = \frac{\vec{u} \cdot \vec{v}}{\|\vec{v}\|^2} \cdot \vec{v} = \frac{(10\vec{a} + 2\vec{b}) \cdot (5\vec{a} - 12\vec{b})}{\|5\vec{a} - 12\vec{b}\|^2} \cdot (5\vec{a} - 12\vec{b}) = \dots = \frac{2}{13} (5\vec{a} - 12\vec{b})$$

## 7.2 Vektorový součin geometrických vektorů ve $\mathbb{V}(\mathbb{E}_3)$

1. Vypočtete normu vektoru  $(3\vec{a} - 2\vec{b}) \times (\vec{a} - 4\vec{b})$ , jestliže  $\|\vec{a}\| = 1$ ,  $\|\vec{b}\| = 3$ ,  $\angle(\vec{a}, \vec{b}) = 5\pi/6$ . Načrtněte obrázek a vysvětlete úlohu geometricky.



$$\|\vec{u} \times \vec{v}\| = \|\vec{u}\| \cdot \|\vec{v}\| \sin \varphi = P_{\text{pr}}$$

$$P = \|\vec{v}\| \cdot h$$

NE!  $\vec{u} \times \vec{v} = \|\vec{u}\| \|\vec{v}\| \sin \varphi$  *vektor ≠ číslo*

$$\vec{a} \times \vec{b}$$

$$\vec{b} \times \vec{a} = -\vec{a} \times \vec{b}$$

$$\begin{aligned} (3\vec{a} - 2\vec{b}) \times (\vec{a} - 4\vec{b}) &= \underbrace{3\vec{a} \times \vec{a}}_{\vec{0}} + 3\vec{a} \times (-4\vec{b}) + \underbrace{(-2\vec{b}) \times \vec{a}}_{+2\vec{a} \times \vec{b}} + \underbrace{(-2\vec{b}) \times (-4\vec{b})}_{\vec{0}} = \\ &= -10(\vec{a} \times \vec{b}) \end{aligned}$$

$$\| -10 \cdot (\vec{a} \times \vec{b}) \| = 10 \cdot \|\vec{a}\| \cdot \|\vec{b}\| \sin \frac{5\pi}{6} = 10 \cdot 1 \cdot 3 \cdot \frac{1}{2} = \underline{\underline{15}}$$

7.2. 2. Zjednodušte výraz  $\vec{i} \times (\vec{i} + \vec{j} + \vec{k}) + (\vec{j} + \vec{k}) \times (\vec{i} - 2\vec{j})$ , kde  $(\vec{i}, \vec{j}, \vec{k})$  tvoří pravotočivou ortonormální soustavu vektorů.

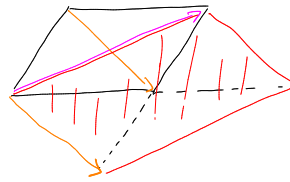
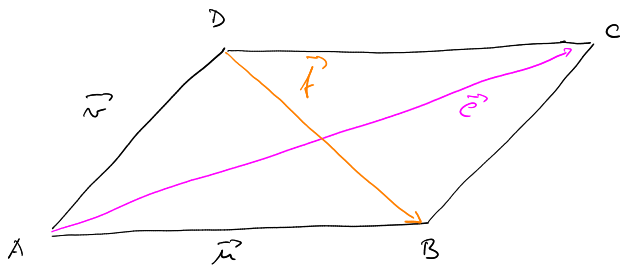
$$\|\vec{i}\| = \|\vec{j}\| = \|\vec{k}\| = 1, \quad \angle(\vec{i}, \vec{j}) = \angle(\vec{i}, \vec{k}) = \angle(\vec{j}, \vec{k}) = 90^\circ$$

$$\vec{i} \times (\vec{i} + \vec{j} + \vec{k}) + (\vec{j} + \vec{k}) \times (\vec{i} - 2\vec{j}) = \underbrace{\vec{i} \times \vec{i}}_{\vec{0}} + \underbrace{\vec{i} \times \vec{j}}_{=\vec{k}} + \underbrace{\vec{i} \times \vec{k}}_{=-\vec{j}} + \underbrace{\vec{j} \times \vec{i}}_{=-\vec{k}} - 2 \underbrace{\vec{j} \times \vec{j}}_{\vec{0}} + \underbrace{\vec{k} \times \vec{i}}_{=-\vec{j}} -$$

$$- 2 \vec{k} \times \vec{j} = -2 \underbrace{\vec{k} \times \vec{j}}_{=-\vec{i}} = \underline{\underline{2\vec{i}}}$$

7.2.3. Dvěma různými metodami vypočítejte obsah rovnoběžníka  $ABCD$  jehož úhlopříčky jsou  $\vec{AC} = 2\vec{a} - \vec{b}$ ,  $\vec{DB} = 4\vec{a} - 5\vec{b}$ , kde  $\vec{a}, \vec{b}$  jsou jednotkové vektory, svírající úhel  $45^\circ$ .

$$\|\vec{a}\| = \|\vec{b}\| = 1 \quad ; \quad \angle(\vec{a}, \vec{b}) = 45^\circ$$



$$\begin{aligned} \text{I) a) } P &= \|\vec{AB} \times \vec{AD}\| = \left\| \left( \frac{1}{2} \vec{AC} + \frac{1}{2} \vec{DB} \right) \times \left( \frac{1}{2} \vec{AC} - \frac{1}{2} \vec{DB} \right) \right\| = \frac{1}{4} \left\| (\vec{AC} + \vec{DB}) \times (\vec{AC} - \vec{DB}) \right\| = \\ &= \frac{1}{4} \left\| (2\vec{a} - \vec{b}) + (4\vec{a} - 5\vec{b}) \right\| \times \left\| (2\vec{a} - \vec{b}) - (4\vec{a} - 5\vec{b}) \right\| = \frac{1}{4} \left\| (6\vec{a} - 6\vec{b}) \times (-2\vec{a} + 4\vec{b}) \right\| = \\ &= \frac{1}{4} \cdot 6 \cdot 2 \left\| (\vec{a} - \vec{b}) \times (\vec{a} - 2\vec{b}) \right\| = 3 \cdot \left\| \underbrace{\vec{a} \times \vec{a}}_0 - 2\vec{a} \times \vec{b} - \underbrace{\vec{b} \times \vec{a}}_{-\vec{a} \times \vec{b}} + 2\underbrace{\vec{b} \times \vec{b}}_0 \right\| = \\ &= 3 \cdot \|\vec{a} \times \vec{b}\| = 3 \cdot \|\vec{a}\| \cdot \|\vec{b}\| \cdot \sin 45^\circ = 3 \cdot 1 \cdot 1 \cdot \frac{\sqrt{2}}{2} = \underline{\underline{\frac{3\sqrt{2}}{2}}} \end{aligned}$$

$$\text{b) } P = \frac{1}{2} \|\vec{AC} \times \vec{DB}\| = \frac{1}{2} \|(2\vec{a} - \vec{b}) \times (4\vec{a} - 5\vec{b})\| = \dots = \frac{3\sqrt{2}}{2}$$

$$\text{II} \quad \vec{u} = \frac{1}{2}(\vec{c} + \vec{f}) = 3\vec{a} - 3\vec{b}$$

$$\vec{v} = \frac{1}{2}(\vec{c} - \vec{f}) = -\vec{a} + 2\vec{b}$$

$$\sin^2 \varphi + \cos^2 \varphi = 1 \Rightarrow \sin^2 \varphi = 1 - \cos^2 \varphi$$

$$\begin{aligned} \|\vec{u} \times \vec{v}\|^2 &= \|\vec{u}\|^2 \cdot \|\vec{v}\|^2 \cdot \sin^2 \varphi = \|\vec{u}\|^2 \cdot \|\vec{v}\|^2 (1 - \cos^2 \varphi) = \|\vec{u}\|^2 \cdot \|\vec{v}\|^2 \left( 1 - \frac{(\vec{u} \cdot \vec{v})^2}{\|\vec{u}\|^2 \cdot \|\vec{v}\|^2} \right) = \\ &= \underline{\underline{\|\vec{u}\|^2 \cdot \|\vec{v}\|^2 - (\vec{u} \cdot \vec{v})^2}} \end{aligned}$$

$$\boxed{\|\vec{u} \times \vec{v}\| = \sqrt{\|\vec{u}\|^2 \cdot \|\vec{v}\|^2 - (\vec{u} \cdot \vec{v})^2}}$$

$$\|\vec{u}\|^2 = \vec{u} \cdot \vec{u} = (3\vec{a} - 3\vec{b}) \cdot (3\vec{a} - 3\vec{b}) = 9\vec{a}^2 - 18\vec{a} \cdot \vec{b} + 9\vec{b}^2 = 9 \cdot 1 \cdot 1 - 18 \cdot 1 \cdot 1 \cdot \frac{\sqrt{2}}{2} + 9 \cdot 1 \cdot 1 = 18 - 9\sqrt{2}$$

$$\|\vec{v}\|^2 = \vec{v} \cdot \vec{v} = (-\vec{a} + 2\vec{b}) \cdot (-\vec{a} + 2\vec{b}) = \vec{a}^2 - 4\vec{a} \cdot \vec{b} + 4\vec{b}^2 = 1 \cdot 1 - 4 \cdot 1 \cdot 1 \cdot \frac{\sqrt{2}}{2} + 4 \cdot 1 \cdot 1 = 5 - 2\sqrt{2}$$

$$\vec{u} \cdot \vec{v} = (3\vec{a} - 3\vec{b}) \cdot (-\vec{a} + 2\vec{b}) = -3\vec{a}^2 + 9\vec{a} \cdot \vec{b} - 6\vec{b}^2 = -3 \cdot 1 \cdot 1 + 9 \cdot 1 \cdot 1 \cdot \frac{\sqrt{2}}{2} - 6 \cdot 1 \cdot 1 = -9 + 9\frac{\sqrt{2}}{2}$$

$$\|\vec{u} \times \vec{v}\| = \sqrt{(18 - 9\sqrt{2})(5 - 2\sqrt{2}) - (-9 + 9\frac{\sqrt{2}}{2})^2} = \dots = \sqrt{\frac{9 \cdot 2}{4}} = \underline{\underline{\frac{3\sqrt{2}}{2}}}$$



7.3 Smíšený součin geometrických vektorů ve  $\mathbb{V}(\mathbb{E}_3)$

1. Vektory  $\vec{u}, \vec{v}$  svírají úhel  $\varphi = \pi/6$  a vektor  $\vec{w}$  je kolmý k vektorům  $\vec{u}, \vec{v}$ . Vypočítejte smíšený součin  $[\vec{u}, \vec{v}, \vec{w}]$ , je-li  $\|\vec{u}\| = 6, \|\vec{v}\| = 3, \|\vec{w}\| = 3$ .

$$\angle(\vec{u}, \vec{v}) = \frac{\pi}{6} \quad \angle(\vec{u} \times \vec{v}, \vec{w}) = \angle(\vec{u}, \vec{v}) = 90^\circ$$

$$[\vec{u}, \vec{v}, \vec{w}] = (\vec{u} \times \vec{v}) \cdot \vec{w} = \|\vec{u} \times \vec{v}\| \cdot \|\vec{w}\| \cdot \cos(\vec{u} \times \vec{v}, \vec{w}) =$$

$$= \|\vec{u}\| \cdot \|\vec{v}\| \cdot \sin(\vec{u}, \vec{v}) \cdot \|\vec{w}\| \cdot \cos(\vec{u} \times \vec{v}, \vec{w}) =$$

$\hookrightarrow$  není jednotkový vektor

$$= 6 \cdot 3 \cdot \frac{1}{2} \cdot 3 \cdot \begin{cases} \cos 0 \\ \cos \pi \end{cases} = \begin{cases} 27 \\ -27 \end{cases}$$

