

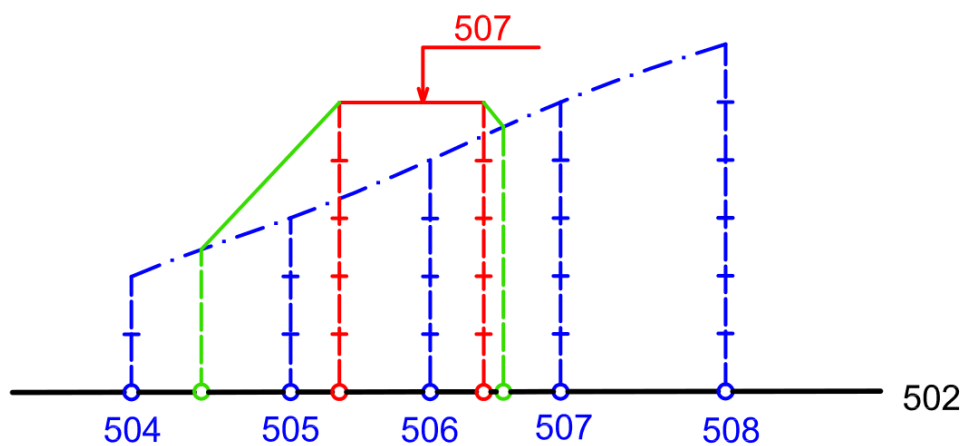
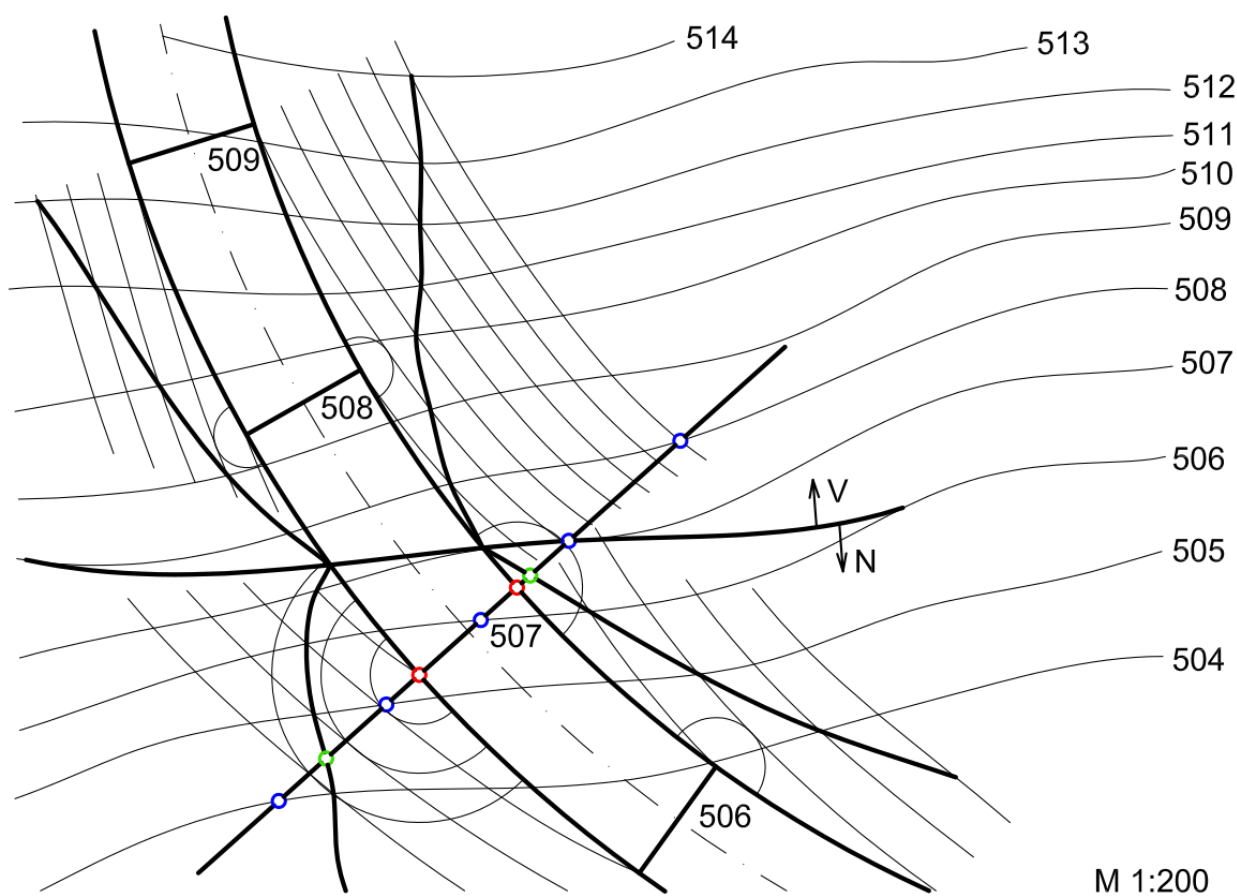
## Cvičení č. 10

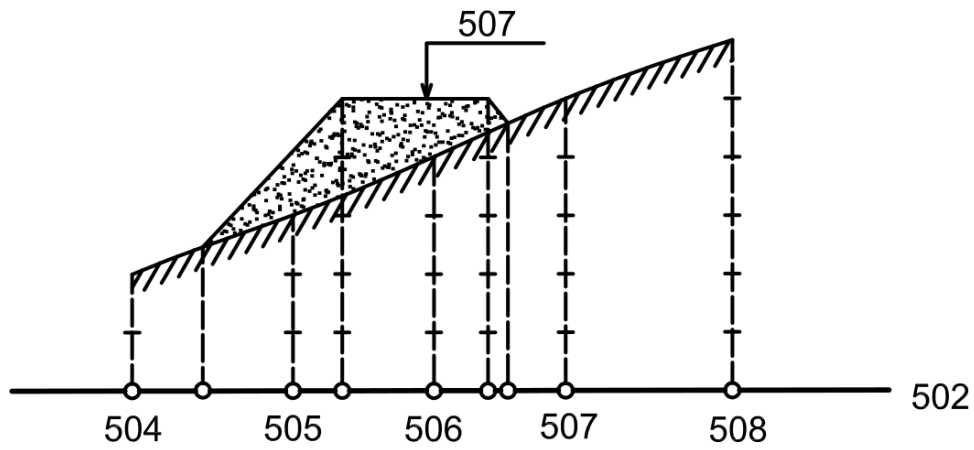
**Příklad č. 40:** Sestrojte perspektivní průmět brány zadané sdruženými průměty.

viz [\*] Autorský kolektiv Ústavu matematiky a deskriptivní geometrie FaSt VUT v Brně: *Deskriptivní geometrie, verze 4.0 pro I. ročník Stavební fakulty Vysokého učení technického v Brně*, Soubor CD-ROMů Deskriptivní geometrie, Fakulta stavební VUT v Brně, 2012. ISBN 978-80-7204-626-3; Kapitola 7.12, Cvičení.

<https://www.geogebra.org/m/sewf5hvg>

**Příklad NP:** Sestrojte řez topografické plochy promítací rovinou – *příčný profil*.





**Příklad NP:** Sestrojte průřečníky čáry c s topografickou plochou.

