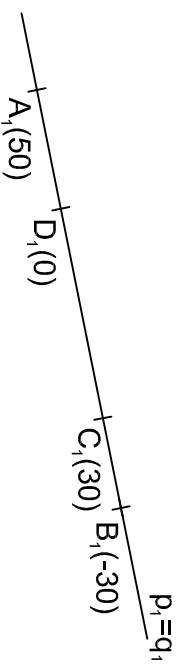
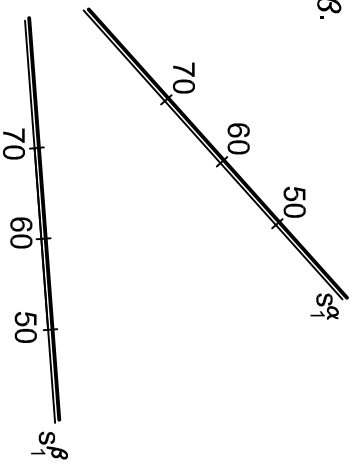


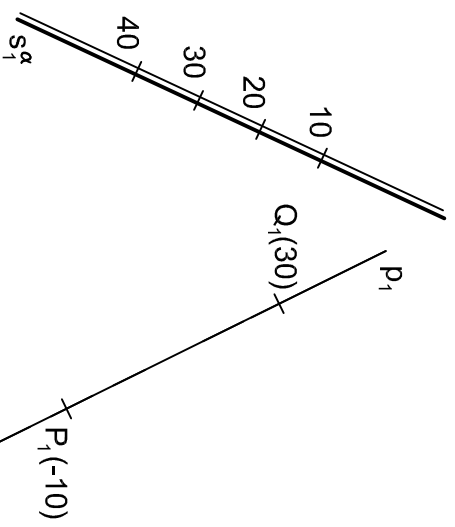
Určete vzájemnou polohu přímek p, q .



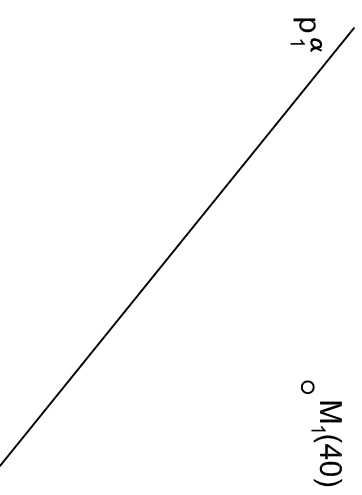
Sestrojte průsečnici rovin α, β .



Sestrojte průsečík přímky p s rovinou α .



V rovině $\alpha=(p,M)$ najděte přímky spádu $4/3$.



Přímkou PM proložte rovinu spádu $4/3$.

